

පළමු වාර පරීක්ෂණය - 10 ශ්‍රේණිය - 2019

First Term Test - Grade 10 - 2019

නම / විභාග අංකය : භූගෝල විද්‍යාව - I කාලය : පැය 03යි.

වැදගත් :

- * මෙම ප්‍රශ්න පත්‍රය ප්‍රශ්න 40කින් සමන්විත ය.
- * එක් එක් ප්‍රශ්න සඳහා දී ඇති උපදෙස්වලට අනුකූලව සියලු ම ප්‍රශ්නවලට මෙම ප්‍රශ්න පත්‍රයේ ම පිළිතුරු සපයන්න.

* අංක 01 සිට 10 තෙක් දී ඇති ප්‍රශ්නවල එක් එක් හිස්තැනට ගැලපෙන පිළිතුර වරහන් තුළින් තෝරා තිත් ඉර මත ලියන්න.

- (01) පෘථිවි පද්ධතිය තුළ ඇති ශාක හා සත්ව විශේෂ අයත් වන්නේ ය.
(ශිලාගෝලයට / ජෛවගෝලයට / ජලගෝලයට)
- (02) පෘථිවි කබොල හා ප්‍රාවරණයේ ඉහළ කොටස ඇතුළත් කලාපය ලෙස හැඳින්වේ.
(වායුගෝලය / ජලගෝලය / ශිලාගෝලය)
- (03) වායුගෝලයේ සංයුතිය අනුව 20.95% ක් ම ඇත්තේ වායුවයි.
(ඔක්සිජන් / නයිට්‍රජන් / කාබන්ඩයොක්සයිඩ්)
- (04) ශිලාගෝලය ප්‍රධාන භූ තැටි කින් සහ කුඩා භූ තැටි කිහිපයකින් සමන්විත වේ.
(පහ / හත / නවය)
- (05) පෘථිවි ව්‍යුහයේ පහළ ම කොටස ය. (කබොල / පිටත හරය / ඇතුළත හරය)
- (06) මැඩගස්කර් දූපත පිහිටා ඇත්තේ මහාද්වීපික තටකය තුළ ය.
(අප්‍රිකා / ආසියා / ඕස්ට්‍රේලියා)
- (07) වායුගෝලයේ අඩු ම උෂ්ණත්වයක් පවතින්නේ ගෝලය තුළ ය.
(අපර්වර්ති / මෙසෝ / තාප)
- (08) මුහුදු මට්ටමේ සිට උසින් ම පිහිටා ඇති සානුව සානුවයි.
(ඩෙකෑන් / පාමීර් / ටිබෙට්)
- (09) දේශගුණය පිළිබඳ මුල්ම අදහසක් ඉදිරිපත් කරනු ලැබුවේ විසිනි.
(ඕස්ටින් මිලර් / ඇරිස්ටෝටල් / සොක්‍රටීස්)
- (10) ගැඹුරු සාගරයේ යමහල් ක්‍රියාකාරීත්වය මගින් දූපත් නිර්මාණය වී තිබේ.
(හවායි / ඉන්දුනීසියානු / කොදේව්)

* අංක 11 සිට 15 තෙක් දී ඇති එක් එක් ප්‍රකාශය කියවා බලා එය නිවැරදි නම් 'නි' යන්න වටා ද වැරදි නම් 'වැ' යන්න වටා ද රවුමක් අඳින්න.

- (11) පෘථිවි ජල ව්‍යාප්තියෙන් 97.5%ක් ම පවතින්නේ සාගර හා මුහුදුවල ය. නි /වැ
- (12) පෘථිවියේ වැඩිම උෂ්ණත්වයක් පවතින්නේ නිවර්තන රේඛා දෙක අතර කලාපයේ ය. නි /වැ
- (13) මරේඩාලිං ගංගාව අප්‍රිකා මහාද්වීපය තුළ පිහිටා ඇත. නි /වැ
- (14) ඉහළ ප්‍රාවරණය හා පහළ ප්‍රාවරණය අතර ගුවෙන්බර්ග් අසන්නකිය පිහිටා ඇත. නි /වැ
- (15) අරාබි මුහුදු සාගරයට සම්බන්ධ සාගරයේ ම කොටසක් ලෙස පිහිටා ඇති මුහුදකි. නි /වැ

* අංක 16 සිට 20 තෙක් ප්‍රශ්නවල 'අ' සහ 'ආ' යනුවෙන් තීරු දෙකක් දැක්වේ. ඒවා සම්බන්ධතාවය අනුව ගැලපූ විට නිවැරදි පිළිතුරට හිමි අංකය තිත් ඉර මත ලියන්න.

(16) පෘථිවියේ ප්‍රධාන අක්ෂාංශ රේඛා කිහිපයක නම් 'අ' තීරුවේ ද එම අක්ෂාංශවල අක්ෂාංශ වටිනාකම් 'ආ' තීරුවේ ද දැක්වේ. 'අ' තීරුවේ අනුපිළිවෙළට 'ආ' තීරුව ගැලපූ විට ලැබෙන නිවැරදි පිළිතුර තෝරන්න.

- | | | | |
|---|---|----------------|------------------------|
| <p>'අ'</p> <ol style="list-style-type: none"> 1. කර්කටක නිවර්තනය 2. මකර නිවර්තනය 3. ආකටික් වෘත්තය 4. ඇන්ටාක්ටික් වෘත්තය | <p>'ආ'</p> <ol style="list-style-type: none"> A. උ. අ. 66 1/2° B. උ. අ. 23 1/2° C. ද. අ. 23 1/2° D. ද. අ. 66 1/2° | | |
| (1) B, D, A, C | (2) B, C, A, D | (3) C, B, D, A | (4) A, C, B, D (.....) |

(17) භූ තැටි කිහිපයක නම් 'අ' තීරුවේ ද එම තැටි තුළ පිහිටා ඇති දූපත් කිහිපයක නම් 'ආ' තීරුවේ ද දැක්වේ. 'අ' තීරුවේ අනුපිළිවෙළට 'ආ' තීරුව ගැලපූ විට ලැබෙන නිවැරදි පිළිතුර තෝරන්න.

- | | | | |
|--|---|----------------|------------------------|
| <p>'අ'</p> <ol style="list-style-type: none"> 1. යුරේෂියානු තැටිය 2. ඉන්දු-මිස්ට්‍රේලියානු තැටිය 3. අප්‍රිකානු තැටිය 4. උතුරු ඇමරිකානු තැටිය | <p>'ආ'</p> <ol style="list-style-type: none"> A. ශ්‍රී ලන්තය B. මැඩගස්කරය C. ශ්‍රී ලංකාව D. අයර්ලන්තය | | |
| (1) A, D, B, C | (2) B, D, C, A | (3) D, C, B, A | (4) C, D, B, A (.....) |

(18) විල් නිර්මාණය වී ඇති ආකාර කිහිපයක් 'අ' තීරුවේ ද ඒ සඳහා උදාහරණ කිහිපයක් 'ආ' තීරුවේ ද දැක්වේ. 'අ' තීරුවේ අනුපිළිවෙළට 'ආ' තීරුව ගැලපූ විට ලැබෙන නිවැරදි පිළිතුර තෝරන්න.

- | | | | |
|--|--|-------------|---------------------|
| <p>'අ'</p> <ol style="list-style-type: none"> 1. පෘථිවි චලන නිසා 2. යම්හල් විදාරණය නිසා 3. ග්ලැෂියර් බාදනය නිසා | <p>'ආ'</p> <ol style="list-style-type: none"> A. විටිකාකා විල B. මැජ්නෝර් විල C. වික්ටෝරියා විල | | |
| (1) B, A, C | (2) C, B, A | (3) A, C, B | (4) C, A, B (.....) |

(19) පෘථිවි වායුගෝලයේ ස්තර කිහිපයක නම් 'අ' තීරුවේ ද එම ස්තරවල ලක්ෂණ කිහිපයක් 'ආ' තීරුවේ ද දැක්වේ. 'අ' තීරුවේ අනුපිළිවෙළට 'ආ' තීරුව ගැලපූ විට ලැබෙන නිවැරදි පිළිතුර ලියන්න.

- | | | | |
|---|---|-------------|---------------------|
| <p>'අ'</p> <ol style="list-style-type: none"> 1. පරිවර්තිගෝලය 2. අපරිවර්තිගෝලය 3. මෙසෝගෝලය | <p>'ආ'</p> <ol style="list-style-type: none"> A. පතනශීඝ්‍රතාව සිදුවීම. B. විද්‍යුත් ක්‍රියාවලි බහුල වීම. C. ඕසෝන් ස්තරය පිහිටීම. | | |
| (1) C, B, A | (2) A, B, C | (3) B, A, C | (4) A, C, B (.....) |

(20) ලොව ප්‍රධාන ඇළ මාර්ග කිහිපයක නම් 'අ' තීරුවේ ද ඒ මගින් සම්බන්ධ කෙරෙන සාගර හා මුහුදු 'ආ' තීරුවේ ද දැක්වේ. 'අ' තීරුවේ අනුපිළිවෙළට 'ආ' තීරුව ගැලපූ විට ලැබෙන නිවැරදි පිළිතුර තෝරන්න.

- | | | | |
|---|--|-------------|---------------------|
| <p>'අ'</p> <ol style="list-style-type: none"> 1. සුවස් ඇළ 2. පැනමා ඇළ 3. කීල් ඇළ | <p>'ආ'</p> <ol style="list-style-type: none"> A. අත්ලාන්තික් සාගරය හා පැසිපික් සාගරය B. මධ්‍යධරණී මුහුද හා රතු මුහුද C. උතුරු මුහුද හා බෝල්ටික් මුහුද | | |
| (1) B, A, C | (2) C, A, B | (3) B, C, A | (4) A, C, B (.....) |

* අංක 21 සිට 25 තෙක් ප්‍රශ්නවල හිස්තැන්වලට සුදුසු වචන යොදා සම්පූර්ණ කරන්න.

- (21) ජලවාෂ්ප ලෙස වායුගෝලයට එක් වන ජලය ඝනීභවනය වී ක්‍රියාවලිය මගින් නැවත පොළොවට පතිත වේ.
- (22) මහාද්වීප මායිමේ සිට සාගරය දෙසට පැතිරී ගිය නොගැඹුරු මුහුදු තීරය නම් වේ.
- (23) චීන මුහුදු සාගරයේ කොටසක් ලෙස පවතී.
- (24) සහරා කාන්තාරය පිහිටා තිබෙන්නේ දේශගුණික කලාපය තුළය.
- (25) පෘථිවි තලය මත මහාද්වීප අතර පිහිටි කරදිය පිරුණු විශාල ජල ප්‍රදේශ ලෙස හැඳින්වේ.

* පහත වගුවේ සමහර ගංගාවල ආරම්භය හා පිහිටීම වැරදි ලෙස සටහන් ව ඇත එම වගුව යොදා ගෙන අංක 26 සිට 30 තෙක් ප්‍රශ්නවලට පිළිතුරු සපයන්න.

ගංගාව	ආරම්භය සිදුවන ආකාරය	පිහිටි මහාද්වීපය
තේම්ස්	උල්පතකින්	යුරෝපය
නයිල්	ග්ලැෂියර් දිය වූ ජලයෙන්	අප්‍රිකාව
රයින්	විලකින්	ආසියාව
මහවැලි	කඳුකර ප්‍රදේශයක වර්ෂා ජලයෙන්	ඕස්ට්‍රේලියාව

- (26) ආරම්භය හා පිහිටීම නිවැරදිව සටහන් වී ඇත්තේ ගංගාවේ ය.
- (27) පිහිටීම පමණක් නිවැරදිව සටහන් වී තිබෙන්නේ ගංගාවේ ය.
- (28) ආරම්භය හා පිහිටීම වැරදි ලෙස සටහන් වී තිබෙන්නේ ගංගාවේ ය.
- (29) ආරම්භය පමණක් නිවැරදිව සටහන් ව ඇත්තේ ගංගාවේ ය.
- (30) තේම්ස් හා රයින් යන ගංගා දෙකම පිහිටා ඇත්තේ මහාද්වීපය තුළ ය.

* අංක 31 සිට 40 තෙක් එක් එක් ප්‍රශ්නයට දී ඇති පිළිතුරු හතර අතුරින් නිවැරදි හෝ වඩාත් ගැළපෙන පිළිතුර තෝරා ඊට හිමි අංකය, ඉදිරියේ ඇති තිත් ඉර මත ලියන්න.

- (31) ගුටෙන්බර්ග් අසන්නතිය පිහිටා ඇත්තේ,
 - (1) ඉහළ ප්‍රාවරණය හා පහළ ප්‍රාවරණය අතර ය.
 - (2) කබොල හා ඉහළ ප්‍රාවරණය අතර ය.
 - (3) බාහිර හරය හා අභ්‍යන්තර හරය අතර ය.
 - (4) පහළ ප්‍රාවරණය හා බාහිර හරය අතර ය. (.....)
- (32) තුන් පැත්තකින් ජලයෙන් වට වූ ගොඩබිම හඳුන්වන නම කුමක් ද?
 - (1) මහාද්වීපය (2) දූපත
 - (3) අර්ධද්වීපය (4) ශිලා ගෝලය (.....)
- (33) සම්පූර්ණයෙන් ගොඩබිමෙන් වට වූ මුහුදකට නිදසුනකි.
 - (1) කහ මුහුද (2) ඒරල් මුහුද
 - (3) ජපන් මුහුද (4) රතු මුහුද (.....)

(34) පහත සඳහන් කඳුවැටි අතරින් ලොව උසම කඳු මුදුන පිහිටා ඇති කඳුවැටිය තෝරන්න.
 (1) හිමාලය (2) අල්තායි
 (3) රොකී (4) ඇල්පීස් (.....)

(35) ගැඹුරු සාගර ආගාධ බහුලව පිහිටා ඇති සාගරය කුමක් ද?
 (1) පැසිපික් සාගරය (2) ඉන්දියන් සාගරය
 (3) අත්ලාන්තික් සාගරය (4) ආක්ටික් සාගරය (.....)

(36) ජල චක්‍රය හා සම්බන්ධ පහත ප්‍රකාශ අතුරින් නිවැරදි ප්‍රකාශය තෝරන්න.
 (1) අපධාවය යනු භූමිය තුළට ජලය කාන්දු වීමයි.
 (2) වර්ෂාපතනය යනු වර්ෂණයේ එක් අවස්ථාවකි.
 (3) ශාක පත්‍රවලින් සිදු වන වාෂ්පීකරණය මගින් වායු ගෝලයට ජලය එක් වේ.
 (4) භූමිය මතු පිට ගලායන ජලය මගින් ළිං හා උල්පත් පෝෂණය වේ. (.....)

(37) පෘථිවියේ භෞතික ලක්ෂණ කිහිපයක් සම්බන්ධ පහත සඳහන් ප්‍රකාශ අතුරින් වැරදි ප්‍රකාශය තෝරන්න.
 (1) මුදුන් කිහිපයක් සහිත දිගට විහිදුන උස්බිම් කඳුවැටියක් ලෙස හඳුන්වයි.
 (2) යුරල් ගඟ කැස්පියන් මුහුදට ගලා බසී.
 (3) ඇමේසන් ගඟ ලොව ඇති දිග ම ගංගාව වේ.
 (4) කරදිය සහිත කුඩා ජල ප්‍රදේශයක් මුහුදක් ලෙස හඳුන්වයි. (.....)

* අංක 38 සිට 39 ප්‍රශ්නවලට පිළිතුරු සැපයීම සඳහා පහත දැක්වෙන තොරතුරු උපයෝගී කර ගන්න.
 A - වන විනාශය
 B - කාබන්ඩයොක්සයිඩ්
 C - ප්‍රභාසංශ්ලේෂණය
 D - වර්ෂණය
 E - ගෝලීය උෂ්ණත්වය

(38) ඉහත එක් සාධකයක වැඩිවීම තවත් සාධකයක අඩුවීම කෙරෙහි බලපෑමක් ඇති කරන බව දැක්වෙන ප්‍රකාශ අඩංගු අක්ෂර දෙක ඇතුළත් පිළිතුර තෝරන්න.
 (1) B හා D (2) E හා A (3) B හා C (4) A හා C (.....)

(39) ඉහත එක් සාධකයක වැඩි වීම තවත් සාධකයක වැඩිවීම කෙරෙහි බලපෑමක් ඇති කරන බවට දැක්වෙන ප්‍රකාශ දෙක ඇතුළත් පිළිතුර තෝරන්න.
 (1) A හා C (2) B හා D (3) B හා E (4) C හා D (.....)

(40) ශ්‍රී ලංකාව 1: 50,000 පරිමාණයේ භූ ලක්ෂණ සිතියම් කොටස් කීයකින් සමන්විතවේ ද?
 (1) 94කි. (2) 92කි. (3) 90කි. (4) 72කි. (.....)

වයඹ පළාත් අධ්‍යාපන දෙපාර්තමේන්තුව

Provincial Department of Education - NWP



පළමු වාර පරීක්ෂණය - 10 ශ්‍රේණිය - 2019

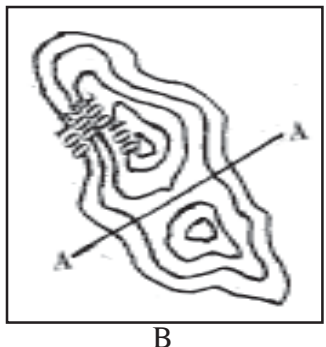
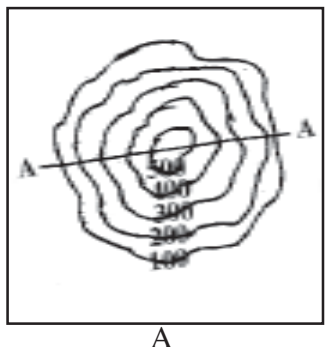
First Term Test - Grade 10 - 2019

නම / විභාග අංකය : භූගෝල විද්‍යාව - II

- වැදගත් :**
- * මෙම ප්‍රශ්න පත්‍රය I, II වශයෙන් කොටස් දෙකින් සමන්විත ය.
 - * I කොටසේ ප්‍රශ්නය අනිවාර්ය වේ. එහි (අ), (ආ) සහ (ඉ) කොටස් තුනට ම පිළිතුරු සැපයිය යුතු ය.
 - * II කොටසින් ප්‍රශ්න හතරකට පමණක් පිළිතුරු සපයන්න.

I කොටස

- (01) (අ) ඔබ අධ්‍යයනය කොට ඇති 1 : 50 000 භූ ලක්ෂණ සිතියම් පිළිබඳ දැනුම භාවිත කොට පහත ප්‍රශ්නවලට පිළිතුරු සපයන්න.
- (i) 1 : 50 000 පරිමාණයේ භූ ලක්ෂණ සිතියමක කිලෝමීටර 1ක් දැක්වීම සඳහා සෙන්ටිමීටර කීයක් යොදා ගනී ද? (ලකුණු 01)
 - (ii) කිලෝමීටර 5ක් දිග මාර්ගයක් 1 : 50 000 භූ ලක්ෂණ සිතියමක දක්වනුයේ සෙන්ටිමීටර කීයක් මගින් ද? (ලකුණු 01)
 - (iii) 1 : 50 000 පරිමාණයේ භූ ලක්ෂණ සිතියමක පහත සඳහන් ස්ථානවල දක්වා ඇති තොරතුර බැගින් ලියන්න.
 - (a) ඉහළ වට තීරුව
 - (b) පහළ වට තීරුව (ලකුණු 02)
 - (iv) භූ ලක්ෂණ සිතියම්වල පහත සඳහන් සංකේත මගින් දක්වන සංස්කෘතික ලක්ෂණ නම් කරන්න.
 - (a)  (ලකුණු 02)
 - (b)  (ලකුණු 02)
 - (v) භූ ලක්ෂණ සිතියම්වල පහත සඳහන් සංස්කෘතික ලක්ෂණ පෙන්වුම් කරන සම්මත සංකේත නියමිත වර්ණයෙන් ඇඳ දක්වන්න.
 - (a) දිස්ත්‍රික් මායිම
 - (b) A ශ්‍රේණියේ ප්‍රධාන මාර්ගය (ලකුණු 02)
 - (vi) පහත A හා B චතුරස්‍රවල ඇති A- A රේඛාව මගින් නිරූපණය වන භූ විෂමතා ලක්ෂණ වෙන වෙන ම නම් කරන්න.



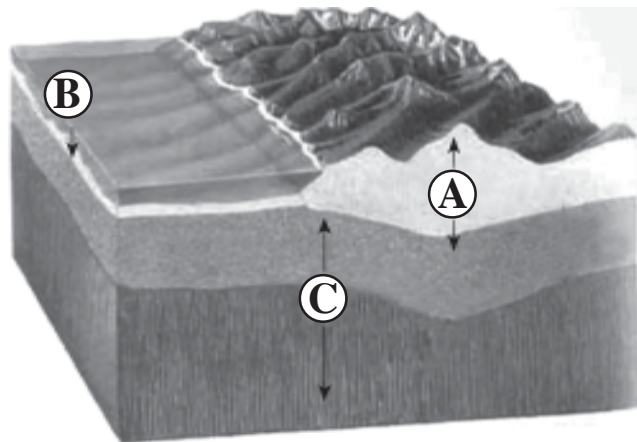
(ලකුණු 02)

- (ආ) ඔබ වෙත සපයා ඇති ලෝක සිතියම හොඳින් අධ්‍යයනය කර පහත සඳහන් ප්‍රශ්නවලට පිළිතුරු සපයන්න.
- (i) සිතියමෙහි ලකුණු කොට ඇති A, B හා C අක්ෂරවලින් ජාවා දූපත දැක්වෙන අක්ෂරය කුමක් ද?
 - (ii) සිතියමෙහි ලකුණු කොට ඇති D, E හා F අක්ෂරවලින් මිසිසිපි ගංගාව දැක්වෙන අක්ෂරය කුමක් ද?
 - (iii) සිතියමෙහි ලකුණු කොට ඇති G, H හා J අක්ෂරවලින් අන්දීස් කඳු වැටිය දැක්වෙන අක්ෂරය කුමක් ද?
 - (iv) සිතියමෙහි ලකුණු කොට ඇති K, L හා M අක්ෂරවලින් ජපන් මුහුද දැක්වෙන අක්ෂරය කුමක් ද?
 - (v) සිතියමෙහි ලකුණු කොට ඇති P, Q හා R අක්ෂරවලින් ලන්ඩන් නගරය දැක්වෙන අක්ෂරය කුමක් ද?
- (ලකුණු 05)

- (ඉ) ඔබ වෙත සපයා ඇති ශ්‍රී ලංකා සිතියම හොඳින් අධ්‍යයනය කර පහත සඳහන් ප්‍රශ්නවලට පිළිතුරු සපයන්න.
- (i) සිතියමෙහි ලකුණු කොට ඇති A, B හා C අක්ෂරවලින් දඳුරු ඔය දැක්වෙන අක්ෂරය කුමක් ද?
 - (ii) සිතියමෙහි ලකුණු කොට ඇති D, E හා F අක්ෂරවලින් වැලිගම බොක්ක දැක්වෙන අක්ෂරය කුමක් ද?
 - (iii) සිතියමෙහි ලකුණු කොට ඇති G, H හා J අක්ෂරවලින් අම්පාර දිස්ත්‍රික්කය දැක්වෙන අක්ෂරය කුමක් ද?
 - (iv) සිතියමෙහි ලකුණු කොට ඇති K, L හා M අක්ෂරවලින් මත්තල ගුවන් තොටුපොල දැක්වෙන අක්ෂරය කුමක් ද?
 - (v) සිතියමෙහි ලකුණු කොට ඇති P, Q හා R අක්ෂරවලින් කෝකිලායි කලපුව දැක්වෙන අක්ෂරය කුමක් ද?
- (ලකුණු 05)

II කොටස

(02) ශිලාගෝලයේ ව්‍යුහය දැක්වෙන රූප සටහනක් පහත වේ. එය හොඳින් අධ්‍යයනය කර පහත ප්‍රශ්නවලට පිළිතුරු සපයන්න.



- (i) රූප සටහනේ A හා B වලින් දැක්වෙන කොටස් දෙක නම් කරන්න. (ලකුණු 02)
- (ii) (a) රූප සටහනේ C වලින් දැක්වෙන කොටස නම් කරන්න.
 (b) ශිලාගෝලය මිනිසාට ප්‍රයෝජනවත් වන අවස්ථා දෙකක් ලියන්න. (ලකුණු 03)
- (iii) ශිලාගෝලයේ ඇති සම්පත් ප්‍රයෝජනයට ගැනීමේ දී ශිලාගෝලයට එල්ල වන බලපෑම් තුනක් ලියා ඉන් එකක් කෙටියෙන් පැහැදිලි කරන්න. (ලකුණු 05)

(03) පෘථිවි වායුගෝලයේ අඩංගු ප්‍රධාන වායු වර්ග කිහිපයක සංයුතිය පහත රූප සටහනින් දැක්වේ.

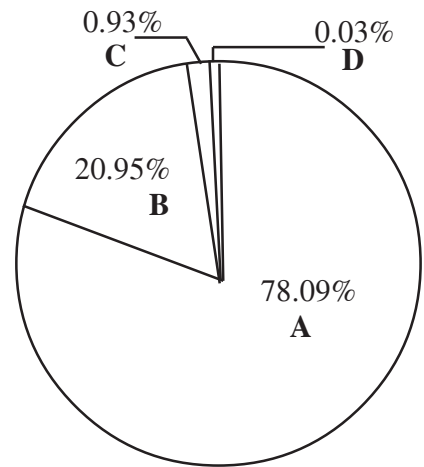
(i) රූප සටහනෙහි A හා B වලින් දැක්වෙන වායු වර්ග දෙක නම් කරන්න. (ලකුණු 02)

(ii) (a) ප්‍රභාසංශ්ලේෂණ ක්‍රියාවලිය සඳහා අවශ්‍ය වන වායු වර්ග දැක්වෙන අක්ෂරය කුමක් ද?

(b) වායුගෝලයේ වෙනත් වායු ලෙස හඳුන්වන වායු වර්ග දෙකක් නම් කරන්න. (ලකුණු 03)

(iii) (a) D වලින් පෙන්නුම් කරන වායු වර්ග නම් කරන්න.

(b) ඉහත ඔබ නම් කළ වායු වර්ගය පරිසරයට අධික ලෙස නිකුත් කෙරෙන අවස්ථා දෙකක් පැහැදිලි කරන්න. (ලකුණු 05)



(04) (i) ජෛවගෝලයේ ප්‍රධාන සංරචක දෙක නම් කරන්න. (ලකුණු 02)

(ii) ජෛව ගෝලයේ සීමාවන් දක්වන්න. (ලකුණු 03)

(iii) මිනිස් ක්‍රියාකාරකම් නිසා ජෛව ගෝලයට එල්ල වී ඇති තර්ජන තුනක් ලියා ඉන් එකක් පැහැදිලි කරන්න. (ලකුණු 05)

(05) පහත දැක්වෙන්නේ පෘථිවියේ ප්‍රධාන භූ තැටි පෙන්නුම් කරන සිතියමකි.



(i) සිතියමෙහි අංක 1 න් හා 2න් දැක්වෙන භූ තැටි දෙක නම් කරන්න. (ලකුණු 02)

(ii) පෘථිවියේ ඇති කුඩා භූ තැටි තුනක නම් ලියන්න. (ලකුණු 03)

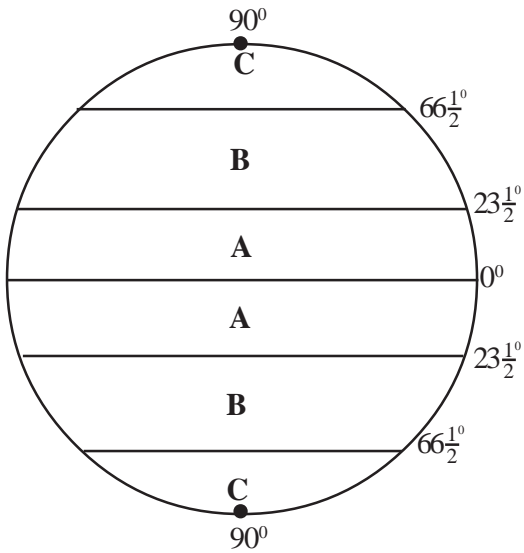
(iii) (a) අංක 5 සහ 6න් දැක්වෙන භූ තැටි තුළ පිහිටා ඇති රටවල් එක බැගින් නම් කරන්න.

(b) භූ තැටි ක්‍රියාකාරිත්වය නිසා ඇති වන බලපෑම් දෙකක් කෙටියෙන් පැහැදිලි කරන්න. (ලකුණු 05)

- (06) (i) ලෝකයේ ප්‍රධාන සාගර අතරින්,
 (a) විශාලතම හා
 (b) කුඩා ම සාගරය පිළිවෙළින් නම් කරන්න. (ලකුණු 02)
- (ii) පහත සඳහන් මහාද්වීප විශාලත්වය අනුව අවරෝහණ පිළිවෙළට පෙළගස්වන්න.
 A - උතුරු ඇමරිකාව B - අප්‍රිකාව C - යුරෝපය (ලකුණු 03)
- (iii) කිසියම් රටක් දූපතක් ලෙස පිහිටීමෙන් ඇති වන වාසියක් හා අවාසියක් බැගින් ලියා කෙටියෙන් පැහැදිලි කරන්න. (ලකුණු 05)

- (07) A - පාමීර් සානුව B - මෙක්සිකෝ සානුව
- (i) ඉහත A හා B වලින් දක්වා ඇති සානු පිහිටි මහාද්වීප දෙක පිළිවෙළින් ලියන්න. (ලකුණු 02)
- (ii) ලෝකයේ පිහිටි ගංගා සහ විල් මිනිසාට ප්‍රයෝජනවත් වන අවස්ථා තුනක් ලියන්න. (ලකුණු 03)
- (iii) (a) ඕස්ට්‍රේලියා මහාද්වීපයේ පිහිටා ඇති ප්‍රධාන තැන්න කුමක් ද?
 (b) තැනිතලා භූමි ප්‍රදේශ මිනිස් කටයුතු සඳහා වැදගත් වන ආකාරය කරුණු දෙකක් මගින් පැහැදිලි කරන්න. (ලකුණු 05)

(08) ලෝකයේ දේශගුණික කලාප දක්වන රූප සටහනක් පහත වේ.



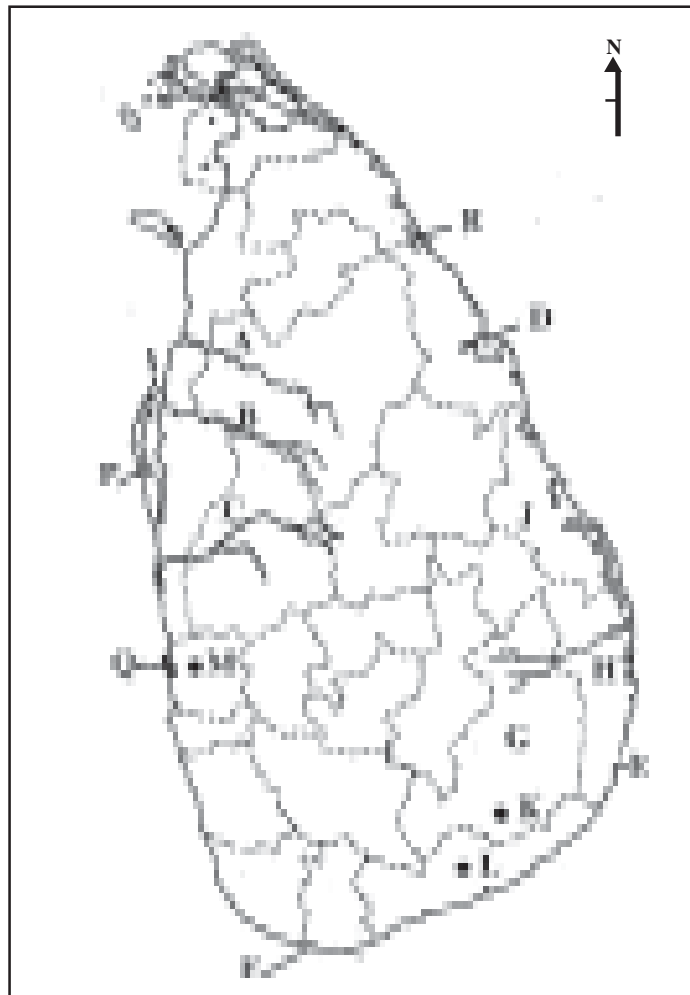
- (i) රූපසටහනේ A හා C වලින් දක්වන දේශගුණ කලාප දෙක නම් කරන්න. (ලකුණු 02)
- (ii) (a) B වලින් දක්වන දේශගුණ කලාපය තුළ පිහිටා ඇති රටක් නම් කරන්න.
 (b) B දේශගුණ කලාපයේ උතුරු කොටසේ සීමා දෙක දක්වන්න. (ලකුණු 03)
- (iii) A දේශගුණ කලාපයේ විශේෂ ලක්ෂණ තුනක් පැහැදිලි කරන්න. (ලකුණු 05)

(ආ) / (ආ) / (b)



- (i)
- (ii)
- (iii)
- (iv)
- (v)

(ඉ) / (ඉ) / (c)



- (i)
- (ii)
- (iii)
- (iv)
- (v)

(l) (ආ) (a) $\frac{1}{10}$

(ආ) (ආ) (b) $\frac{1}{5}$

(ඉ) (ඉ) (c) $\frac{1}{5} = \frac{2}{20}$