



மாணவர்களைப் பாடசாலைக்குத் தேர்ந்தெடுப்பதற்கும் மாணவர்களுக்கு உதவிப்பணம் வழங்குவதற்குமாகத் தரம் ஐந்து மாணவர்களுக்கு நடாத்தப்படும் பரீட்சைக்கான வழிகாட்டல்.

வினாத்தாள் - II

3

1 மணித்தியாலம் 15 நிமிடம்

சுட்டெண்

பரீட்சைக்குத் தோற்றும் உங்களுக்குரிய அறிவுறுத்தல்கள்.

- ★ உங்கள் சுட்டெண்ணை மேற்குறித்த அடைப்பினுள் இருக்கும் புள்ளிக்கோட்டின் மீது எழுதுங்கள்.
- ★ மூன்றாம் பக்கத்தில் குறித்த இடத்திலும், உங்கள் சுட்டெண்ணை எழுதுக.
- ★ எல்லா வினாக்களுக்கும் உரிய விடைகளை இவ் வினாத்தாளிலேயே எழுதுக.
- ★ நான்கு விடைகள் தரப்பட்டுள்ள வினாக்களில் சரியான விடையைத் தெரிவு செய்து அதன் கீழ்க் கோடிடுக.
- ★ விடைகள் எழுதப்பட வேண்டிய வினாக்களின் விடைகளைப் புள்ளிக்கோட்டின் மீது எழுதுக.

விடைத்தாள் பரீட்சகர்களுக்கு மாத்திரம்

பக்க இலக்கம்	பெற்ற புள்ளிகள்	பெயரும் ஒப்பமும்
02		
03		பெயர்
04		ஒப்பம்
05		
06		பெயர்
07		
08		பெயர்
மொத்தம்		ஒப்பம்
இறுதிப்புள்ளிகள்		
இலக்கத்தில்		
எழுத்தில்		
		அதிபர் மேற்பார்வை செய்தேன்.
		வலய / மாகாண மேற்பார்வையாளர்

01) பின்வரும் பந்தியை வாசியுங்கள்.

நாம் கல்விச் சுற்றுலா செல்லும்போது பேராதனையைக் கடந்து கொழும்பு வீதியூடாகச் சிறிது தூரம் சென்றதும் கடுகண்ணாவ மலைத்தொடர் தென்படத் தொடங்கியது. கிழக்கு வானில் சூரியன் தகதகவென மின்னியபடி அம்மலைத்தொடர்களுக்கிடையே எட்டிப் பார்த்தான். தூரத்தே தெரியும் வீதிகள் பாம்புகள் வளைந்து செல்வது போலக் காட்சியளித்தன. இவ்வாறாக நாம் இயற்கையின் விந்தைகளையும், அழகையும் இரசித்தபடி கொழும்பு நகரை வந்தடைந்தோம்.

பந்தியை மாத்திரம் துணையாகக் கொண்டு விடையளிக்குக.

1) பாம்புகள் வளைந்து செல்வது போலக் காட்சியளிப்பவை எவை?

.....

2) இரட்டைக் கிளவிச் சொல் ஒன்றினை எழுதுக.

.....

3) மெல்லின மெய்யெழுத்து ஒன்று தருக.

.....

4) பெரிது என்ற சொல்லின் எதிர்ச் சொல்லை எழுதுக.

.....

5) உவமைத் தொடர் ஒன்றினை எழுதுக.

.....

6) இப்பந்திக்கு மிகவும் பொருத்தமான தலைப்பைத் தெரிவு செய்து அதன் கீழே கோடிடுக.

அ) மலைத் தொடர்கள்

ஆ) இயற்கையின் அழகு

இ) வீதிகளின் சிறப்பு

(06 புள்ளிகள்)

02) அஃறிணை, பன்மைப் பெயர்ச் சொல்லைத் தெரிவு செய்து அதன் கீழே கோடிடுக.

நண்பன், காகம், கிளிகள், ஓடின, மன்னன்

(01 புள்ளிகள்)

03) கீழே தரப்பட்டுள்ள சொற்களை ஒழுங்குபடுத்திக் கருத்துள்ள வாக்கியம் ஒன்று எழுதுக.

வேலை / ஓர் / சேவகன் / அரசரிடம் / ஒருவன் / வந்தான் / செய்து

.....

(01 புள்ளிகள்)

04) பின்வரும் ஒவ்வொரு வாக்கியத்திலும் எழுவாய் பயனிலைத் தொடர்பு சரியாயின் (✓) எனவும் பிழையாயின் (✗) எனவும் எதிரே உள்ள அடைப்புக் குறிகள் அடையாம் இடுக.

1) ஓநாயைக் கண்ட மான் வேகமாக ஓடியது. (.....)

2) பூந்தோட்டத்தில் மல்லிகைப் பூக்கள் மலர்ந்தது. (.....)

3) நான் அழகிய காட்சிகளை வரைவேன். (.....)

4) சிறந்த நூல்கள் நல்ல நண்பர்களைப் போன்றது. (.....)

(04 புள்ளிகள்)

05) பொருத்தமான நிறுத்தக்குறிகளை இடுக.

- 1) இப்பொழுது என்ன சொல்கின்றீர் நுளம்பாரே
- 2) களை பிடுங்காத பயிர் காற்பயிர் எனவும் கூறினார்

(02 புள்ளிகள்)

06) பின்வரும் சந்தர்ப்பங்களுக்குப் பொருத்தமான பழமொழிகளைப் புள்ளிக்கோட்டில் எழுதுக.

- 1) சந்தர்ப்பத்தை தவறவிடக்கூடாது.

.....

- 2) ஒற்றுமையே பலம் தரும்

.....

(02 புள்ளிகள்)

07) பின்வரும் வாக்கியங்களை எழுத்து மொழியில் எழுதுக.

- 1) அனுப்பிய பணம் கிடைச்சது.

.....

- 2) நான் வண்ணாத்திப் பூச்சி பேசுகின்றேன்.

.....

(02 புள்ளிகள்)

08) கீழே தரப்பட்டுள்ள வாக்கியங்களில் உள்ள வெற்றிடத்திற்குப் பொருத்தமான சொல்லை அடைப்புக்குள் இருந்து தெரிவு செய்து புள்ளிக்கோட்டில் எழுதுக.

- 1) அரசன் ச் சென்றார் (அரண்மனைக்கு / அரண்மனைக்கு)

- 2) எனது ஊசி கிடையாது (தோழர்களிடம் / தோளர்களிடம்)

(02 புள்ளிகள்)

09) தன்னைப்பற்றி தானே எழுதும் நூல்.

.....

(01 புள்ளிகள்)

10) பின்வரும் இணை மொழியைப் பூர்த்தி செய்க.

அல்லும்

(01 புள்ளிகள்)


11) பின்வரும் ஆங்கிலச் சொற்களின் கருத்தைத் தமிழில் எழுதுக.

I. National bird

II. Temple

12) பின்வரும் ஒவ்வொரு படத்திற்கும் பொருத்தமான ஆங்கிலச் சொல்லை ஆங்கில எழுத்துக்களிலேயே எழுதுக.

III.



.....

IV.



.....

(04 புள்ளிகள்)

13) பின்வரும் சொற்களைச் சரியாக ஒழுங்குபடுத்திக் கருத்துள்ள வாக்கியங்களாக எழுதுக.

I. livel/I/ in/ Jaffna

II. eat/I/ fruits

(04 புள்ளிகள்)

14) 'ஓபே பாசல' எனும் சிங்களச் சொற்களுக்குரிய தமிழ்ச் சொற்களை எழுதுக.

.....

15) பின்வரும் வாக்கியம் சிங்களத்தில் கூறப்படும் விதத்தைத் தமிழ் எழுத்துக்களில் எழுதுக.

தே பொன்ன

(04 புள்ளிகள்)

16) முப்பத்து ஏழாயிரத்து தொள்ளாயிரத்து ஏழு எனும் எண்ணை இலக்கத்தில் எழுதுக.

.....

17)

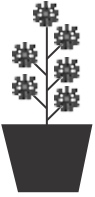
9	5
0	2

கட்டத்தில் உள்ள இலக்கங்களைக் கொண்டு ஆக்கக் கூடிய மிகச் சிறிய எண்ணை எண் பெயரில் எழுதுக.

.....

(01 புள்ளிகள்)

18)



1. பூக்களின் எண்ணிக்கையை உரோம எண்ணில் எழுதுக.

.....

2. இல 6 இற்கு முன்னாலும் பின்னாலும் அமையும் உரோம எண்களை எழுதுக.

.....

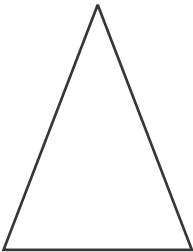
(02 புள்ளிகள்)

19) கீழே உருவில் காட்டப்பட்டுள்ள பென்சிலின் நீளம் யாகு?

.....



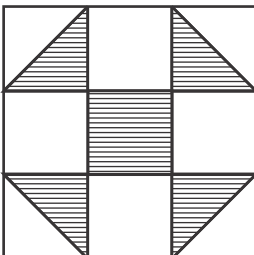
20) கீழே தரப்பட்டுள்ள முக்கோணிக்கு எத்தனை சமச்சீர் கோடுகள் வரையலாம்?



.....

(02 புள்ளிகள்)

21)



உருவில் நிறுற்றப்பட்ட பகுதியை பின்னமாக எழுதுக.

.....

(02 புள்ளிகள்)

22) பிற்பகல் 8.30 என்பது இருபத்து நான்கு மணிக்கடிக்காரத்தில் காட்டப்படும் விதத்தை இலக்கத்தில் எழுதுக.

.....

23) 1kg 500g தேயிலையை ஒரு பொதியில் 250g வீதம் எத்தனை பொதிகளில் இடலாம்?

.....

24) 3000 l நீர் நிரம்பக்கூடிய நீர்த்தாங்கி ஒன்றில் $\frac{1}{4}$ பகுதி நீர் நிரப்பப்பட்டுள்ளது. இந்நீர்த்தாங்கியின் $\frac{1}{2}$ பகுதியை நிரப்புவதற்கு மேலும் எவ்வளவு நீர் ஊற்ற வேண்டும்?

.....

25) ஒன்றின் விலை ரூபாய் 25.00 வீதம் 8 அப்பிள் பழங்களை வாங்குவதற்கு தேவையான பணம் எவ்வளவு?

.....

26) கமலா ஓர் இடத்தில் இருந்து பயணத்தை ஆரம்பித்து வடக்குத் திசையில் 20 m தூரம் சென்று பின் கிழக்குத் திசையில் 30 m தூரம் சென்றாள், கமலா பயணத்தை ஆரம்பித்த திசையிலிருந்து எத்திசையில் நிற்கின்றாள்.

.....

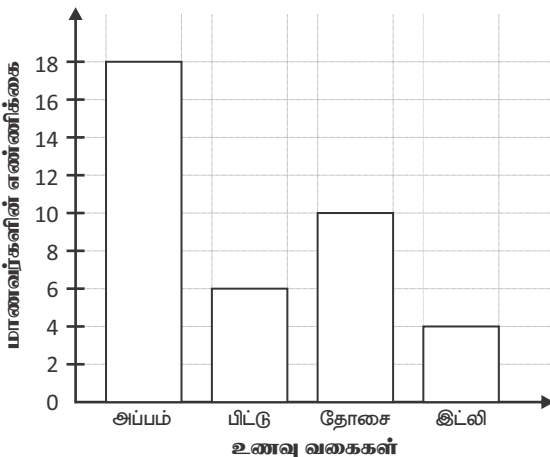
27) 330 பென்சில்கள் ஒரு வகுப்பில் உள்ள 30 மாணவர்களுக்கு சம எண்ணிக்கையில் பகிர்ந்தளிக்கப்பட்ட டது எனின், ஒரு மாணவருக்கு கிடைக்கும் பென்சில்கள் எத்தனை?

.....

28) பழ வியாபாரி ஒருவர் 1250 அப்பிள் பழங்களையும் 755 தோடம்பழங்களையும் 378 அன்னாசிப் பழங்களையும் விற்பனை செய்தார். அவர் விற்பனை செய்த பழங்களின் மொத்த எண்ணிக்கையாது?

.....

29) மாணவர் குழுவொன்று அதிகம் விரும்பும் உணவு வகைகள் பற்றிய தகவல்கள் வரையில் தரப்பட்டுள்ளன.



I. அப்பம் விரும்பும் மாணவர் எண்ணிக்கை தோசையை விரும்பும் மாணவர் எண்ணிக்கையைவிட எத்தனை அதிகமாகும்?

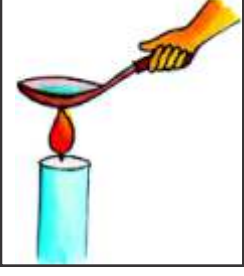
.....

II. குழுவில் உள்ள மொத்த மாணவர் தொகை எவ்வளவு?

.....

- 30) 1999, 1989, 2009, 1979, 2019 பின்வரும் எண்களை ஏறுவரிசைப்படுத்தும் போது நடுவில் வரும் எண் யாது?
-
- 31) தொடக்கம் 60 வரையான ஒவ்வொரு வினாவிற்கும் பொருத்தமான விடையைத் தரப்பட்ட விடைகளில் இருந்து தெரிவு செய்து அதன் கீழ்க் கோட்டுக.
- 31) தினமும் உடல், உள, ஆன்மீக நலத்திற்காகச் செய்யப்பட வேண்டியது.
1. உறுதிப்பாடு 2. சூரியநமஸ்கரம் 3. பெரியோரை மதித்தல்
- 32) தியானத்தின் நான்காவது படிமுறை
1. உதிப்பு 2. திடசித்தம் 3. பிரார்த்தனை
- 33) தேசியக் கொடியில் சிவப்பு நிறப் பின்னணியில் மஞ்சள் நிற வாளேந்திய சிங்க உருவம் குறிப்பது.
1. தமிழ் மக்கள் 2. முஸ்லிம் மக்கள் 3. சிங்கள மக்கள்
- 34) “மகாவலி பாய்வதும் இந்நாடே...” இப்பாடல்,
1. தேசப்பற்றுப்பாடல் 2. அருவிவெட்டுப்பாடல் 3. கும்மிப்பாடல்
- 35) பாலை, வீரை ஆகிய மரங்கள் பூக்கும் மாதம்.
1. தை மாதம் 2. பங்குனி மாதம் 3. ஆனிமாதம்
- 36) செவ்வெறும்பு தாவரத்தின் எந்தப் பகுதியில் கூடு கட்டும்?
1. கிளை 2. இலை 3. வேர்
- 37) தாவரத்தின் எப்பகுதியில் வண்ணத்துப்பூச்சிகள் முட்டைகளை இடுகின்றன.
1. இலையின் கீழ்ப்பகுதி 2. பிரதான தண்டு 3. இலையின் மேல்பகுதி
- 38) கால்கள் இல்லை, செட்டைகள் இல்லை ஆனால் விவசாய நடவடிக்கைகளுக்கு உதவுவது.
1. பாம்பு 2. தவளை 3. மண்புழு
- 39) கைக்குட்டையின் கரையைத் தைப்பதற்கு பொருத்தமான தையல் வகை
1. கம்பளித்தையல் 2. சிறுநூலோடி 3. விஸ்யம் தையல்
- 40) மரவேலை செய்வோர் பயன்படுத்தும் உபகரணம்
1. துருத்தி 2. மட்டப்பலகை 3. உளி
- 41) பானம் தயாரிக்கப் பயன்படுவது
1. வெரலிக்காய் 2. பலாக்காய் 3. யம்புக்காய்
- 42) உணவை நீண்டகாலம் பேணுவதற்குப் பயன்படுத்தப்படும் முறை அல்லாதது.
1. உலர்த்துதல்
2. தேனில் இட்டு வைத்தல்
3. நீருக்குள் அமிழ்த்தி வைத்தல்
- 43) இயற்கை அனர்த்தங்களுள் ஒன்று.
1. மண்சரிவு 2. வீதிவிபத்து 3. மின்சாரம் தாக்குதல்
- 44) உடன் உணவுகள், எண்ணெய் மற்றும் மிளகாய் அதிகம் அடங்கிய உணவுகளை உட்கொள்வதால் ஏற்படக்கூடிய நோய்.
1. நீரிழிவு 2. இரப்பையழற்சி 3. சீதபேதி

45)



நீரைச் சூடாக்கும்போது யாது நிகழும்?

1. நீர் அதிகரிக்கும்
2. நீர் உறையும்
3. நீர் ஆவியாகும்

46)

நீர் மாசடையும் முறை அல்லாதது

1. விவசாய நடவடிக்கைக்குப் பயன்படுத்தப்படும் இரசாயனப் பசளைகள் நீருடன் சேருதல்
2. மனிதச் செயற்பாடுகளின் விளைவாக வெளியேற்றப்படும் கழிவுகள் நீரில் கலத்தல்
3. நீருடன் கழிவுப்பொருட்கள் கலக்காதிருத்தல்

47)

வீதியைக் கடக்கும்போது கடைப்பிடிக்க வேண்டியது.

1. மற்றொருவருடன் உரையாடிக்கொண்டு செல்லல்
2. மிகுந்த அவதானத்துடன் செல்லல்
3. தொலைபேசியைப் பயன்படுத்தியவாறு செல்லல்

48)



இக்குறியீடு குறிப்பது.

1. எச்சரிக்கை
2. கவனமாகக் கையாளுங்கள்
3. மீள்கழற்சி

49)

சேதனப்பசளை பயன்படுத்துவதால் ஏற்படும் நன்மை,

1. நச்சுத்தன்மையற்ற உணவுப்பொருள் கிடைத்தல்
2. உணவுப் பொருளுடன் நச்சுத்தன்மை சேர்தல்
3. அதிக செலவு ஏற்படுதல்

50)

வீட்டுத் தோட்டத்தில் செவ்வந்திச் செடி வளர்ப்பதன் நோக்கம்,

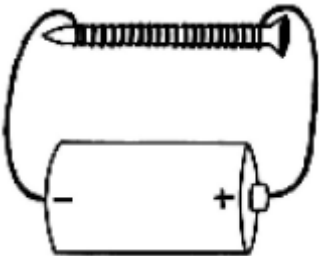
1. பயிர்களுக்கு தீங்கு விளைவிக்கும் பூச்சிகளைக் கட்டுப்படுத்தல்
2. அழகுணர்வை ஏற்படுத்தல்
3. பூக்களை அதிகவிலைக்கு விற்பனை

51)

பண்டைய காலத்தில் வேலைகளை இலகுவடுத்துவதற்காக மரக்குற்றிகளை இழுப்பதற்குப் பயன்படுத்தப்பட்ட விலங்கு?

1. ஒட்டகச் சிவிங்கி
2. குதிரை
3. யானை

52)



இங்கு இரும்பு ஆணியின் முனைகளுக்கு அருகே குண்டுசிகள் கொண்டு செல்லும்போது நிகழும் மாற்றம்.

1. குண்டுசிகள் கீழே விழும்
2. குண்டுசிகள் கவரப்படும்
3. குண்டுசிகள் நிறம் மாறும்

53) வித்துக்களைப் பயன்படுத்திச் செய்யப்படும் ஆக்கம்.

1. கொலாஜ்

2. ஓரிகாமி

3. அல்பனா

54) எமக்கு இலவசமாகக் கிடைக்கும் சேவைகள்?

1. கல்வி, மருத்துவம்

2. மின்சாரம், குடிநீர்

3. கல்வி, போக்குவரத்து

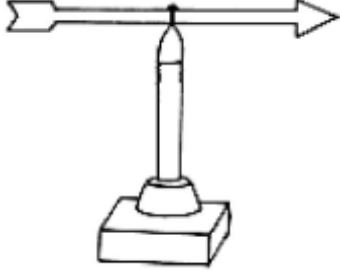
55) ஊசித்துளைக் கமராவில் தோன்றும் விம்பம்.

1. உருப்பெருத்தது, தலைகீழானது

2. உருச்சிறுத்தது, தலைகீழானது

3. நேரானது, உருச்சிறுத்தது

56)



இவ் உபகரணத்தின் பயன்

1. காற்றின் வேகத்தை அறிய உதவும்

2. கற்று வீசும் திசையை அறிய உதவும்

3. வெப்பத்தை அறிய உதவும்

57) உள்ளூர் கடிதங்களை இடவேண்டிய தபாற்பெட்டியின் நிறம்?

1. நீலம்

2. பச்சை

3. சிவப்பு

58) கண்ணுக்கும் செவிக்கும் விருந்தாகும் தொடர்பாடல் சாதனம்

1. தொலைக்காட்சி

2. பத்திரிகை

3. வானொலி

59) இலவசக் கல்வியின் தந்தை

1. வண.எஸ்.மஹிந்த தேரர்

2. ஆதர் சி.கிளாக்

3. கலாநிதி சி.டபிள்யூ. டபிள்யூ கன்னங்கரா

60) சிகிரியாவை வடிவமைத்த மன்னன்?

1. பசவன்

2. காசியப்பன்

3. தாதுசேனன்

61) 'தற்காலத்தில் மனிதனைப் பாதிக்கும் உயிர்கொல்லி நோயான கொரோனா வைரசில் இருந்து நம்மைப் பாதுகாப்பதற்குப் பின்பற்ற வேண்டிய நடைமுறைகள்' எனும் தலைப்பில் பொருத்தமான எழுவாய், பயனிலை செயப்படுபொருளுடன் கூடிய ஆறு சொற்களுக்கு குறையாமல் மூன்று வாக்கியங்கள் எழுதுக.

1.

.....

2.

.....

3.

.....

(06 புள்ளிகள்)

மாகாணக் கல்வித் திணைக்களம் - வடமாகாணம்

முன்னோடி வினாத்தாள் விடைகள்

தரம் - 05

3

வினாத்தாள் - II

01. 1) வீதிகள்
2) தகதக
3) ன்/ண்/ம்/ந்/ங்
4) சிறிது
5) பாம்புகள் வளைந்து செல்வது போல
6) இயற்கை அழகு (10 புள்ளிகள்)
02. கிளிகள் (3 புள்ளிகள்)
03. ஓர் அரசரிடம் சேவகன் ஒருவன் வேலை செய்து வந்தான். (1 புள்ளி)
04. 1. ✓ 2. ✗
3. ✓ 4. ✗ (2 புள்ளிகள்)
05. 1) இப்பொழுது என்ன சொல்கின்றீர்? நுளம்பாரே!
2) “களை பிடுங்காத பயிற் காற்பயிர்” எனக்கூறினார் (2 புள்ளிகள்)
06. 1) காற்றுள்ள போதே தூற்றிக்கொள்
2) அடம்பன் கொடியும் திரண்டால் மிடுக்கு
07. 1) அனுப்பிய பணம் கிடைத்தது
2) நான் வண்ணத்துப்பூச்சி பேசுகின்றேன்.
08. 1) அரண்மனைக்கு 2) தோழர்களிடம் (1 புள்ளி)
09. சுயசரிதை (1 புள்ளி)
10. அல்லும் பகலும் (2 புள்ளி)
11. 1) தேசியப்பறவை 2) கோயில் / ஆலயம் (02 புள்ளிகள்)
12. 1. Spoon 2. Owl (02 புள்ளிகள்)
13. 1) I live in Jaffna
2) I eat Fruits (01 புள்ளி)
14. உங்கள் பாடசாலை (06 புள்ளி)
15. தேநீர் குடியுங்கள்
16. 37907
17. இரண்டாயிரத்து ஐம்பத்தொன்பது
18. 1. VI 2. V, VII
19. 6 cm
20. ஒன்று
21. $\frac{1}{3}, \frac{3}{9}, \frac{6}{18}$
22. 20:30 மணித்தியாலம்
23. 6 பொதிகள்
24. 750 l
25. ரூபாய் 200.00
26. வட கிழக்கு
27. 11 பென்சில்கள்
28. 2383
29. 1. எட்டு 2. மாணவர்கள் - 38
30. 1999 (02 புள்ளிகள்)
- | | | | | |
|-------|-------|-------|-------|-------|
| 31. 2 | 32. 3 | 33. 3 | 34. 1 | 35. 2 |
| 36. 2 | 37. 1 | 38. 3 | 39. 1 | 40. 3 |
| 41. 1 | 42. 3 | 43. 1 | 44. 2 | 45. 3 |
| 46. 3 | 47. 2 | 48. 1 | 49. 1 | 50. 1 |
| 51. 3 | 52. 2 | 53. 3 | 54. 1 | 55. 2 |
| 56. 2 | 57. 3 | 58. 1 | 59. 3 | 60. 2 |
- (30 புள்ளிகள்)